

Cé mhéad stór?

Modúl 7
Bileog Oibre 1



Ainm









Cé mhéad stór atá ag na foirgnimh seo a leanas?
Tarraing ciorcal timpeall ar an bhfreagra ceart.

<p>1 2 3 4 5</p>	<p>1 2 3 4 5</p>
<p>1 2 3 4 5</p>	<p>1 2 3 4 5</p>
<p>1 2 3 4 5</p>	<p>1 2 3 4 5</p>
<p>1 2 3 4 5</p>	<p>1 2 3 4 5</p>

Cé mhéad bá?

Ainm _____

Cé mhéad bá atá ag na foirgnimh seo a leanas?
Tarraing ciorcal timpeall ar an bhfreagra ceart.

 <p>1 2 3 4 5 6</p>	 <p>1 2 3 4 5 6</p>
 <p>1 2 3 4 5 6</p>	 <p>1 2 3 4 5 6</p>
 <p>1 2 3 4 5 6</p>	 <p>1 2 3 4 5 6</p>
 <p>1 2 3 4 5 6</p>	 <p>1 2 3 4 5 6</p>


Cén sórt dín?

Modúl 7
Bileog Oibre 3




Ainm


Cén sórt díonta atá ar na foirgnimh seo a leanas?
Tarraing ciorcal timpeall ar an bhfreagra ceart.




Díon gabhail éadain Díon beannach




Díon gabhail éadain Díon beannach




Díon gabhail éadain Díon beannach




Díon gabhail éadain Díon beannach




Díon gabhail éadain Díon beannach



Díon gabhail éadain Díon beannach



Díon gabhail éadain Díon beannach




Díon gabhail éadain Díon beannach




Bá, stór agus díon

Ainm


Cé mhéad bá agus stór atá ag na foirgnimh seo a leanas? Líon isteach na bearnaí.
Cén sórt díonta atá orthu?




.... bá, stór, díon




.... bá, stór, díon




.... bá, stór, díon



.... bá, stór, díon



.... bá, stór, díon



.... bá, stór, díon



Ainm



An bhfuil rudaí faoi leith a dtugann tú faoi deara ar an bhfoirgneamh seo?
Ainmnigh gnéithe an fhoirgnimh.

A:

B:

C:

D:

E:

F:



Ainm _____

Cén fheidhm atá ag gach ceann acu seo a leanas i bhfoirgneamh.

Doras
Fuinneog
Ballaí
Díon
Simléar & Tinteán
Staihre
Áiléar
Píopaí